





平成30年度いばらきっ子郷土検定問題

下妻市 問題

答の欄に番号を記入してください。

組	番	氏名	
---	---	----	--

番号	問 題	答
1	下妻市の公式サイトキャラクターのシモンちゃんは、何の昆虫を擬人化したものでしょう。 1 ホタル 2 モンシロチョウ 3 カブトムシ 4 オオムラサキ	
2	「やれだいこ」の詩碑はどこにあるでしょう。 1 小貝川堤防上 2 鬼怒川堤防上 3 砂沼湖畔 4 小貝川河川敷	
3	国の重要文化財に指定されている大宝八幡宮本殿は西暦何年につくられたでしょう。 1 1377年 2 1477年 3 1577年 4 1677年	
4	毎年、夏祭りとして、山車や神輿が一堂に会し沿道を練り歩くまつりを何というでしょう。 1 神輿まつり 2 しもつまサマーフェスティバル 3 ふるさと神輿まつり 4 ふるさとまつり連合渡御(れんごうとぎょ)	
5	毎年、4月第2日曜日に多賀谷城跡公園で行われるイベントは何というでしょう。 1 将門まつり 2 多賀谷時代まつり 3 南北朝時代まつり 4 井上時代まつり	
6	幸水・豊水・あきづき・新高・といった品種がある下妻市の特産品である果物は何でしょう。 1 梨 2 ぶどう 3 メロン 4 いちご	
7	下妻市内には、関東鉄道常総線の駅はいくつあるでしょう。 1 3駅 2 4駅 3 5駅 4 6駅	
8	砂沼で花火大会と千人おどりが行われる下妻まつりは、何月に開催されるでしょう。 1 7月 2 8月 3 9月 4 10月	
9	桜の名所である砂沼周辺には、約何本の桜の木が植えられているでしょう。 1 600本 2 800本 3 1,000本 4 1,200本	
10	下妻市内最大の全長65mを計測する、下妻市指定文化財の前方後円墳の名前は何かでしょう。 1 柴崎1号墳 2 前河原1号墳 3 桜塚1号墳 4 浅間塚1号墳	
11	下妻市の観光施設であるピアsparkしもつまの温泉は、地下何メートルから湧き出ているでしょう。 1 700メートル 2 900メートル 3 1,300メートル 4 1,500メートル	
12	2015年(平成27年)3月26日に、国の登録有形文化財となった江連用水旧溝にある文化財は何でしょう。 1 宮前両樋(みやまえりょうひ) 2 宮裏両樋(みやうらりょうひ) 3 宮西両樋(みやにしりょうひ) 4 寺前両樋(てらまえりょうひ)	
13	下妻市の観光名所であり、茨城の百選にも選ばれている砂沼広域公園の遊歩道は、約何キロメートルあるでしょう。 1 4キロメートル 2 5キロメートル 3 6キロメートル 4 7キロメートル	
14	下妻市平川戸出身で、日本芸術院会員となり、彫刻界で活躍した美術家は誰でしょう。 1 中山 省三郎 2 市村 緑郎 3 門井 八郎 4 高橋 進	
15	市内渋井出身で「チャンチキおけさ」「船方さんよ」などのヒット曲を手がけた作詞家は誰でしょう。 1 門井 八郎 2 佐藤 惣之助 3 長谷川 伸 4 三波 春夫	
16	関東鉄道常総線騰波ノ江駅が関東の駅100選に選ばれたのは、平成何年でしょう。 1 平成9年 2 平成10年 3 平成11年 4 平成12年	
17	旧暦の8月12・14日の夜に行われる大宝八幡宮の祭礼は何と呼ばれるでしょう。 1 大宝神社祭 2 宗任祭(むねとうさい) 3 道祖神祭(どうそじんさい) 4 タバンカ祭	
18	毎年、10月第3土・日曜日に砂沼サンビーチにおいて、約25,000人が訪れ、行われているイベントは何というでしょう。 1 サンビーチまつり 2 しもつま砂沼フェスティバル 3 砂沼フレンドリーフェステバル 4 下妻産業まつり	
19	下妻市のスポーツイベントで、毎年、11月第3日曜日に行われる、スポーツ大会は何というでしょう。 1 下妻市民大運動会 2 砂沼スポーツフェスティバル 3 砂沼マラソン大会 4 下妻近隣野球大会	
20	下妻市の面積は、約何平方キロメートルあるでしょう。 1 80.88平方キロメートル 2 80.99平方キロメートル 3 83.88平方キロメートル 4 89.88平方キロメートル	
21	下妻市と災害時における相互応援に関する協定を結んでいる千葉県の市はどこでしょう。 1 成田市 2 木更津市 3 鴨川市 4 浦安市	
22	2017年(平成29年)に梨の輸出が解禁され、下妻市の梨を100トン輸出したアジアの国はどこでしょう。 1 インドネシア 2 ベトナム 3 タイ 4 ロシア	
23	下妻市のブランド梨である「下妻甘熟梨」は樹上で開花してから何日くらいで収穫するでしょう。 1 95日 2 115日 3 125日 4 135日	
24	下妻市は現在の中学生在が生まれた年代に旧千代川村と合併しましたが、それは平成何年に合併したでしょう。 1 平成15年 2 平成16年 3 平成17年 4 平成18年	
25	下妻市の市章はどれでしょう。 1  2  3  4 	

市町村問題 正答数	問
--------------	---